



A partir de les dades de la fitxa 7 heu de fer els gràfics corresponents per poder interpretar més fàcilment les dades.
No t'oblidis de dibuixar la llegenda per cada gràfic! I fer un comentari de la interpretació de les dades.


GRÀFICS DE LA TAULA 1



Nombre d'usuaris de cada mitjà de transport




Temps recorregut



Distància entre el lloc de residència i el centre

GRÀFICS DE LA TAULA 2



% de cada tipus de vehicle que circula fora del centre
